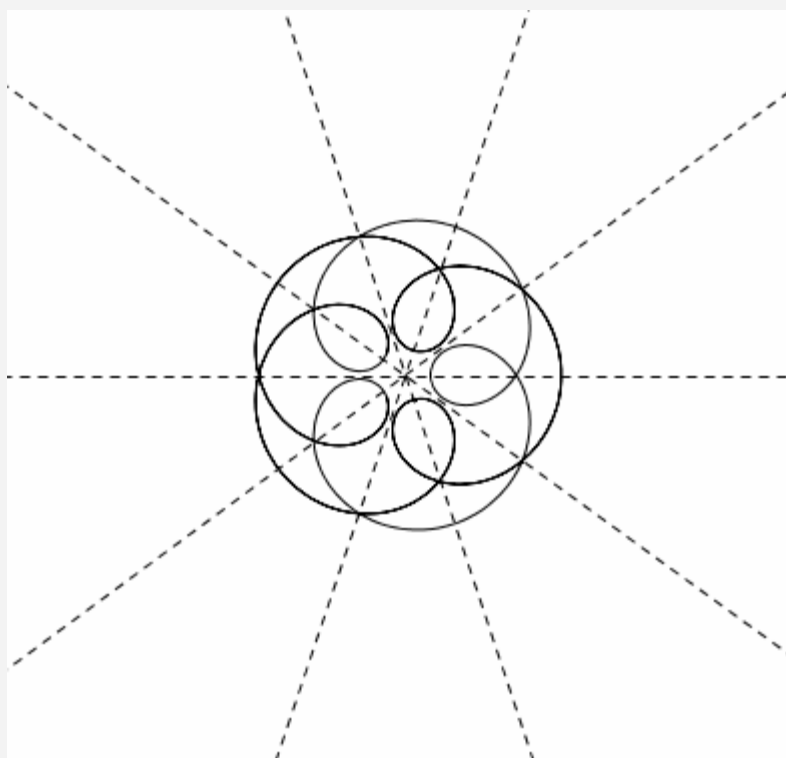
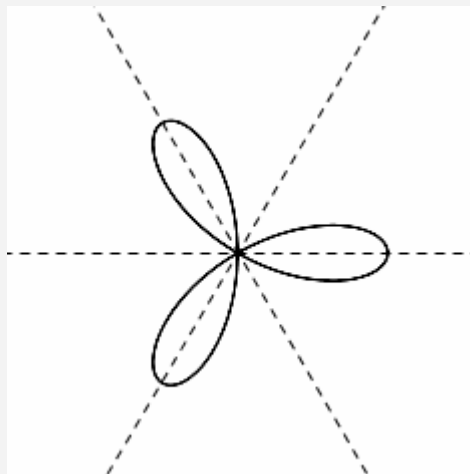


ESERCIZIO
Determinare
gli eventuali
assi di simmetria
e l'eventuale
centro di simmetria
di questa curva



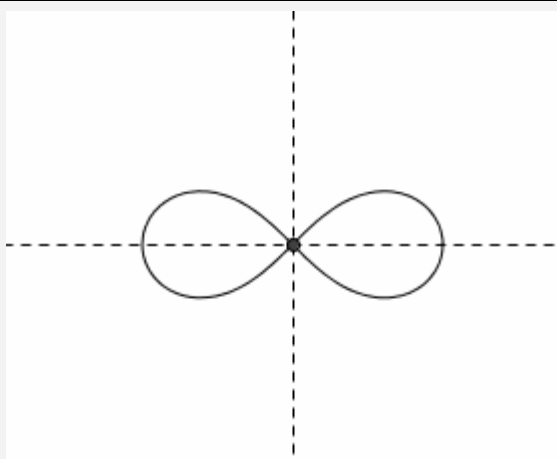
5 assi di simmetria, ma nessun centro di simmetria

ESERCIZIO
Determinare
gli eventuali assi di simmetria
e l'eventuale centro di simmetria
di questa curva



3 assi di simmetria, nessun centro di simmetria

ESERCIZIO
Determinare
gli eventuali assi di simmetria
e l'eventuale centro di simmetria
di questa curva



2 assi di simmetria e un centro di simmetria